

Geteilt rechnen



Name: _____

© Valerie Würz
Download unter www.griffel-verlag.de

Griffel

Geteilt rechnen



Name: _____


© Valerie Würz
Download unter www.griffel-verlag.de

Griffel



Es sind _____ Blumen. Immer drei Blumen werden zu einem Strauß gebunden. Kreise ein. Wie viele Sträuße kannst werden gebunden? _____

$$12 : 3 = \underline{\quad}$$




Es sind _____ Kerzen. Immer vier Kerzen werden auf einen Kuchen gesteckt. Kreise ein. Wie viele Kuchen werden geschmückt? _____

$$\underline{\quad} : 4 = \underline{\quad}$$




Es sind _____ Blumen. Immer drei Blumen werden zu einem Strauß gebunden. Kreise ein. Wie viele Sträuße kannst werden gebunden? _____

$$12 : 3 = \underline{\quad}$$




Es sind _____ Kerzen. Immer vier Kerzen werden auf einen Kuchen gesteckt. Kreise ein. Wie viele Kuchen werden geschmückt? _____

$$\underline{\quad} : 4 = \underline{\quad}$$



Es sind ____ Adler. Sie wollen gerne in Paaren fliegen. Kreise ein.
Wie viele Paare kannst du bilden?


$$\underline{\quad} : 2 = \underline{\quad}$$



Es sind ____ Pinsel. Immer fünf Pinsel kommen in eine Packung. Kreise ein.


Wie viele Packungen werden gepackt? _____

$$\underline{\quad} : 5 = \underline{\quad}$$



Es sind ____ Adler. Sie wollen gerne in Paaren fliegen. Kreise ein.
Wie viele Paare kannst du bilden?


$$\underline{\quad} : 2 = \underline{\quad}$$



Es sind ____ Pinsel. Immer fünf Pinsel kommen in eine Packung. Kreise ein.

Wie viele Packungen werden gepackt? _____

$$\underline{\quad} : 5 = \underline{\quad}$$



Es sind _____ Schmetterlinge. Sie wollen gerne zu 8 in Gruppen fliegen. Kreise ein. Wie viele Gruppen kannst du bilden?


$$\underline{\quad} : 8 = \underline{\quad}$$



Es sind _____ Igel. Immer sieben Igel wollen gemeinsam Futter suchen. Kreise ein.

Wie viele Gruppen sind es? _____

$$\underline{\quad} : 7 = \underline{\quad}$$



Es sind _____ Schmetterlinge. Sie wollen gerne zu 8 in Gruppen fliegen. Kreise ein.

Wie viele Gruppen kannst du bilden?

$$\underline{\quad} : 8 = \underline{\quad}$$



Es sind _____ Igel. Immer sieben Igel wollen gemeinsam Futter suchen. Kreise ein.

Wie viele Gruppen sind es? _____

$$\underline{\quad} : 7 = \underline{\quad}$$